

世界史 A

(解答番号 ~)

第1問 図像は、社会に対する訴えの手段として用いられることがあった。こうした図像について述べた次の文章A～Cを読み、後の問い(問1～8)に答えよ。

(配点 27)

A ジャンヌ=ダルクは、中世ヨーロッパを代表する英雄的人物とみなされているが、次の資料1・2のように、20世紀にも彼女の様々な図像が作成された。

資料1



資料1は、第一次世界大戦中にイギリスが作成したポスターである。騎士の武装をしたジャンヌが描かれ、「ジャンヌ=ダルクはフランスを救った。イギリスの女性たちよ、祖国を救え。戦時貯蓄証書(注)を購入せよ」と英語の呼び掛けが付けられている。

(注) 戦時貯蓄証書—戦費を賄うために発行された債券の一種。

資料 2



資料 2 は、第二次世界大戦中のフランスで、ドイツに協力的で反イギリスの立場を取る **ア** 側の新聞に掲載された一コマ漫画を一部加工したものである。軍艦上の男性が、西アフリカのダカール沖に立ちはだかるジャンヌを、望遠鏡で覗いている。彼女は剣を右手に、「…オルレアン 1429 年…ダカール 1940 年」と記された旗印を左手に持っている。図の下のセリフは、彼女が **イ** と戦い、異端の罪で火刑に処された歴史的事実を思い起こさせる。

問 1 前の文章中の空欄 **ア** と **イ** に入れる語句の組合せとして正しいものを、次の①～④のうちから一つ選べ。 **1**

- ① アーヴィシー政府 イー三十年戦争で神聖ローマ帝国
- ② アーヴィシー政府 イー百年戦争でイギリス
- ③ アーレジスタンス イー三十年戦争で神聖ローマ帝国
- ④ アーレジスタンス イー百年戦争でイギリス


問 2 前の文章を参照して、資料 1・2 の内容について述べた文として最も適切なものを、次の①～④のうちから一つ選べ。 **2**

- ① 資料 1 は、自国の女性に戦費の調達に協力するよう促している。
- ② 資料 1 は、自国の女性に騎士として戦場に向かうよう促している。
- ③ 資料 2 は、カトリックによるユグノーの虐殺を非難している。
- ④ 資料 2 は、ファショダ事件におけるイギリスの行動を非難している。

世界史A

B あるクラスで、「時局図」という風刺画を基に、授業が行われている。

図 「時局図」(1903年作。注記などの文字情報は削除した。)



先生：この図の原図は1903年に公表されたもので、作者は当時の孫文と政治的な主張を同じくしていました。この時、中国は分割の危機に瀕^{ひん}していて、動物などは各列強国を象徴しています。日本については、「ジョン＝ブルと私とで熊を見張ろう」という注記があります。犬として表されたジョン＝ブルは、ほぼ中央に描かれていますが、これは各地に拠点置いて、中国の広い地域に利権を拡大していた国を指しています。この注記は、日本が という当時の状況を、比喩的に言ったものです。

世界史 A

大 川：^{わし}鷺は、アメリカ合衆国を象徴していますね。鷺が南東方向から、その鋭い^{くちばし}嘴を中国に向けているのはどういうことでしょうか。

先 生：アメリカ合衆国の当時の対外政策と関係があります。この図が公表されるより前から、

大 川：左寄りの部分に様々な人物を描いたのは、どのような意図によるのでしょうか。説明してください。

先 生：左上の重い石を持ち上げている人は、武官を選抜する試験で、腕力の強さを試されています。座って読書している人は、文官を選抜する試験のために、儒学の勉強ばかりしています。腕力や古典の習熟度を基準とするのではなく、富国強兵のため実用的な知識を持つ人材を登用すべきことを主張しているわけです。その右下には、国難にもかかわらず、宴楽にふけっているお金持ちを描き、またその左下には、お金を手にした官僚が描かれています。そのお金は、人民から搾取した財物を象徴しています。中央の寝そべった人物は、やはり官服を着ていて、中国分割の危機の中で無為無策である大臣らを風刺しています。作者は、これらの人々や制度を批判の対象として描き加えたのです。

問 3 前の文章中の空欄 に入れる文として最も適当なものを、次の①～④のうちから一つ選べ。

- ① 甲午農民戦争に際し、イギリスなどの諸国とともに出兵した
- ② 第一次世界大戦に参戦し、ドイツの利権の継承を求めている
- ③ ロシアの進出を脅威とする点で、イギリスと利害を共有していた
- ④ イギリスとの同盟の下、ロシアに戦勝し、中国東北部の利権を獲得した

世界史A

問 4 前の文章中の空欄 に入れる文として最も適当なものを、次の①～④のうちから一つ選べ。

- ① ロシアと日本との間を調停し、和平交渉を妥結させました
- ② ワシントン会議を開催し、国際的な協調の下に、中国について国際的な合意を取り付けました
- ③ 日本の南方進出を阻むため、石油禁輸措置などを採りました
- ④ 中国への進出を狙って、中国の分割を牽制^{けんせい}しようとしていました

問 5 前の図は、「時局図」の作者の政治的な主張を反映している。先生の解説を参照して、「時局図」に反映された作者の主張として最も適当なものを、次の①～④のうちから一つ選べ。

- ① 列強国間の勢力均衡を利用して、旧体制の存続を目指そう。
- ② ソ連の支援を得て、国共合作の下に武力による革命を成し遂げよう。
- ③ 腐敗した官僚や無策の朝廷を、革命によって打倒しよう。
- ④ 立憲君主政に移行して、旧体制の近代化を図ろう。

C 次の図は、1895年にドイツで発表された寓意画である。原案はドイツ皇帝ヴィルヘルム2世が作成した。ヨーロッパ諸国になぞらえた女性たちに、剣を持った大天使が戦うようにけしかけている。その先には暗雲に包まれた仏陀や中国の竜に象徴されたアジアの諸民族が攻め寄せてくる様子が描かれている。先頭にいる女性は **オ** を表し、その後ろで剣を構えるのはドイツ、ドイツの肩に手を掛けているのがロシアであり、日清戦争直後の東アジアの領土変更に対してこの3か国が連携して介入したことを意味する。ヴィルヘルム2世はこの連携を基に、1891年以降に自国の東西に敵対国を抱えてきた外交関係を改善したいと考えて、この寓意画を構想したとされる。その一方で、①欧米列強がこれまで抑圧してきた「黄色人種」を脅威とみなす「黄禍論」という考え方を広めたため、「黄禍の図」とも呼ばれる。「黄禍論」は、人種差別や排外主義の傾向を助長することになった。

図



世界史A

問 6 前の図の原案を作った皇帝が行った政策について述べた文として最も適当なものを、次の①～④のうちから一つ選べ。

- ① ドイツ関税同盟を結成した。
- ② 「世界政策」を推進した。
- ③ 社会主義者鎮圧法を制定した。
- ④ ラインラントに進駐した。

問 7 前の文章中の空欄 に入れる国の名あ・いと、ドイツ皇帝がこの寓意画を構想した意図として推測される事柄について述べた文X・Yとの組合せとして正しいものを、後の①～④のうちから一つ選べ。

に入れる国の名

- あ オーストリア＝ハンガリー帝国
- い フランス

意図として推測される事柄について述べた文

X 東アジアに進出するために、三国同盟を強化しようと考えた。

Y 東アジアにおける連携を利用して、露仏同盟との敵対関係を解消できると考えた。

- ① あ－X
- ② あ－Y
- ③ い－X
- ④ い－Y

世界史 A

問 8 下線部②に関連して、抑圧されたアジアの諸民族が欧米列強に反発した出来事について述べた文として最も適当なものを、次の①～④のうちから一つ選べ。

8

- ① 「扶清滅洋」を掲げる義和団が、排外運動を起こした。
- ② アジェンデが、インドネシア国民党を結成した。
- ③ サレカット＝イスラム(イスラーム同盟)が、インドで独立運動を起こした。
- ④ アギナルドが、オランダに対する独立戦争を起こした。

世界史A

第2問 世界史の授業について述べた次の文章A・Bを読み、後の問い(問1～5)に答えよ。(配点 16)

A あるクラスで、大航海時代についての授業が行われている。(引用文には、省略したり、改めたりしたところがある。)

先生：インド洋で活動するムスリムたちの情報を基に、1498年5月にポルトガル人の **ア** は、初めてインドのカリカットに到達しました。
ア は様子をうかがうため、船員の一人を下船させました。すると、北アフリカ出身のムスリムが、現地の代表として船員を迎えました。以下はその時の記録です。

二人のモーロ人(北アフリカ出身のムスリム)は、こんなに遠くまではるばる何を探しに来たのかと、その船員に尋ねた。そこで船員は、キリスト教徒と香料を探しに来たと答えた。モーロ人は続けて、なぜスペインやフランス、ヴェネツィアは、誰も派遣してよこさないのかと問うた。船員が、ポルトガルの王がそれを許さないのだと答えると、それはよいことだとモーロ人は言った。話が終わると、モーロ人たちは船員を厚くもてなし、小麦粉のパンと蜂蜜を与えた。

梅村：ポルトガル人は、なぜ、インドにキリスト教徒を探しに来たのですか。

先生：当時のヨーロッパ人の中には、ローマ時代のキリスト教徒の聖人がヨーロッパ以外の諸地域で布教し、アジアにキリスト教徒がいるという伝説が広まっていたためです。

桜田：なぜ、インドに北アフリカ出身のムスリムがいたのでしょうか。

先生：インドから当時、地中海貿易を通じて北アフリカへ胡椒こしょうが輸出されていました。こうした貿易に従事したモーロ人が、滞在していたのです。

梅村：**ア** は、この時歓迎されたのでしょうか。

先生：ポルトガルと現地勢力との間は、後にギクシャクしますが、最初は両者の間に軍事的衝突はなく、一行は迎え入れられました。

桜田：ポルトガルは、ムスリムたちに支えられてインドに到達できたと言えるかもしれませんね。

先生：そうですね。ポルトガルは、その後もムスリム商人の商業ルートをたどり、香辛料を求めて東南アジアに進出していきます。

問 1 前の文章中の空欄 **ア** に入れる人物の名あ・いと、前の文章から読み取れる事柄 X・Y との組合せとして正しいものを、後の①～④のうちから一つ選べ。 **9**

ア に入れる人物の名

あ ヴァスコ＝ダ＝ガマ

い フランシスコ＝ザビエル

読み取れる事柄

X ポルトガル人は、アジアにキリスト教徒がいるという伝説を確かめようとした。

Y カリカットのムスリムは、ポルトガル人との接触を最初から拒否した。

① あ－X

② あ－Y

③ い－X

④ い－Y

問 2 前の文章を参考にしつつ、ポルトガルの活動や香辛料について述べた文として誤っているものを、次の①～④のうちから一つ選べ。 **10**

① ポルトガルは、ムスリムの水先案内人を活用してインドに到達した。

② ポルトガルは、19世紀にビルマを植民地化した。

③ 胡椒は、インドから地中海沿岸地域に運ばれた。

④ クローブ(クローヴ)が、モルッカ(マルク)諸島で産出された。

世界史A

B あるクラスで、ローマ法の歴史についての授業が行われている。

先生：『ローマ法大全』について知っていますか。

花村：東ローマ皇帝 **イ** の下で^{へんさん}編纂されたものですね。

先生：そうですね。しかし、**イ** の時代には『ローマ法大全』という名称はまだありませんでした。また、今『ローマ法大全』と呼ばれているものには、**イ** の死後に編纂された部分が含まれています。東ローマ帝国で編纂されたこれらが、一括して『ローマ法大全』と呼ばれ始めるのは、中世の西ヨーロッパにおいてだと言われています。中世の西ヨーロッパの大学における②ローマ法の研究や教育は、東ローマ帝国におけるこれらのローマ法の編纂物に基づいて行われたのです。

川上：知りませんでした。研究や教育の場以外の日常生活でも、ローマ法は用いられたのですか。

先生：いい質問ですね。ローマ法は、③商業活動上の取引などから生じたトラブルを解決するための裁判の場でも、利用されるようになっていきました。加えて、近代以降のドイツやフランスといった西ヨーロッパの国々の法にも影響を与えているんですよ。

問 3 前の文章中の空欄 **イ** に入れる人物の名あ・いと、前の文章から読み取れる事柄 X・Y との組合せとして正しいものを、後の①～④のうちから一つ選べ。 **11**

イ に入れる人物の名

- あ アウグストゥス
- い ユスティニアヌス

読み取れる事柄

X 中世の西ヨーロッパの大学で、東ローマ帝国におけるローマ法の編纂物に基づいた研究や教育が行われた。

Y 東ローマ帝国におけるローマ法の編纂物は、当初から『ローマ法大全』と称されていた。

- ① あ－X
- ② あ－Y
- ③ い－X
- ④ い－Y

問 4 下線部③に関連して、ヨーロッパの学問や文化について述べた文として最も適当なものを、次の①～④のうちから一つ選べ。 **12**

- ① 古代ギリシアで、スコラ学が発展した。
- ② 18世紀のヨーロッパで、啓蒙思想が広がった。
- ③ イタリアのグロティウスが、国際法について論じた。
- ④ レオナルド＝ダ＝ヴィンチが、『神曲』を著した。

世界史A

問 5 下線部⑥について述べた次の文うとえの正誤の組合せとして正しいものを、
後の①～④のうちから一つ選べ。

13

う アムステルダムは、17世紀に国際的な商業の中心となった。

え イタリアの諸都市を中心に、東方貿易が盛んになった。

① う—正 え—正

② う—正 え—誤

③ う—誤 え—正

④ う—誤 え—誤

第3問 世界史上の帝国とそれを取り巻く情勢について述べた次の文章A・Bを読み、後の問い(問1～5)に答えよ。(配点 16)

A 次の資料は、明の末期から清の初期を生きた文人である黄宗羲こうそうぎが、都を置く場所の選定について述べた文である。(引用文には、省略したり、改めたりしたところがある。)

資 料

ある人が問う。王者が興起するとしたら、どこに都を置くだらうか。答えは である。またある人が問う。古来、地形の有利さでは関中が一番とされ、 が挙げられたことなどないが、どういうことか。答えは、時代が異なるからである。

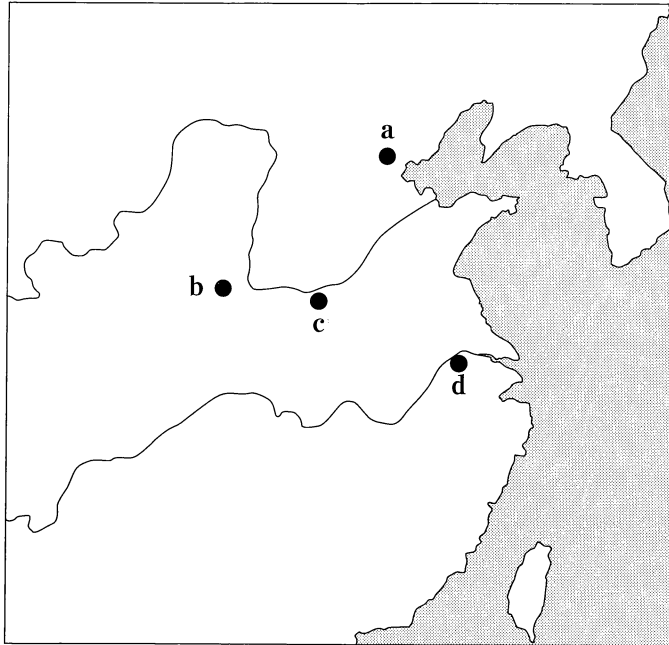
秦や前漢の時代、都があった関中の一帯は、文化の中心であり、田野が開拓され、人材も盛んに輩出された。 の位置する江南地域は、蛮夷と呼ばれるような状態からは脱したものの、文化はまだ素朴だった。ところが今では、関中の人材は、江南に及ばなくなって久しく、さらに④賊の攻撃を受けたことで、関中の集落は以前の2、3割も残っていない。

一方、江南の食糧や絹織物は天下に流通しており、天下に江南があるのは、富豪の家に倉や金庫があるようなものだ。富豪ならば倉や金庫は自分で守り、門や庭は下僕に任せるだろう。 を都としないのは、倉や金庫の守りを下僕に任せるようなものである。かつて明は北京を都としたが、これは自分で門や庭を防衛しようとしたのである。天下を治めるのに、富豪のやり方に劣ってよいわけがない。

著者は最後の段落において、明が北京を都としたことを批判している。一方、この文章が書かれた清の時代においても、都は依然として北京であったが、著者はそのことを直接に否定してはいない。その理由は、現王朝を名指しで批判するのを避けたということも考えられるが、別の理由も考えられる。資料から読み取れるように、明にとっての北京は、 であった。しかし、清は ため、北京の位置づけは、明とは異なるものとなった。したがって、明の都の場所を批判したのと同じ観点で、清を批判することはできないのである。

世界史 A

問 1 次の図中に示した a～dのうち、前の文章中の空欄 **ア** の都市の位置として正しいものを、後の①～④のうちから一つ選べ。 **14**



- ① a ② b ③ c ④ d

問 2 下線部②は、黄宗羲が生きた時代に起こり、当時の王朝を滅ぼした大規模な反乱のことである。この出来事について述べた文として最も適当なものを、次の①～④のうちから一つ選べ。 **15**

- ① 倭寇が、中国沿岸部を攻撃した。
② 節度使の安禄山が、反乱を起こした。
③ 李自成が、農民反乱軍を率いた。
④ 洪秀全が挙兵し、漢人国家の復興を唱えた。

問 3 前の文章中の空欄 **イ** に入れる語句あ・いと、空欄 **ウ** に入れる語句 X～Z との組合せとして正しいものを、後の①～⑥のうちから一つ選べ。

16

イ に入れる語句

あ 食糧生産量の多い，経済上の要地

い 敵対勢力に近い，軍事上の要地

ウ に入れる語句

X 中国東北部から興った

Y 貿易港を上海のみに制限する政策を採った

Z ジャムチ(駅伝制)によって交通網を整備した

① あ－X

② あ－Y

③ あ－Z

④ い－X

⑤ い－Y

⑥ い－Z

世界史 A

B あるクラスで、ビザンツ帝国についての授業が行われている。(引用文には、省略したり、改めたりしたところがある。)

先生：12世紀のビザンツ帝国の皇女で、歴史家でもあったアンナ＝コムネナが、当時の周辺諸民族のあり方を紹介しています。

資料

皇帝陛下は、⑥無数のフランク人軍勢が近づいているという話を聞き、その到着を恐れた。なぜなら彼らは衝動を抑制できず、気まぐれで、動かされやすいことを知っていたからである。

コンスタンティノーブルの大宮殿のそばには、皇帝陛下が設置した病院や孤児院などの公的施設があった。そこには、あらゆる民族から集まった孤児たちのための文法学校があり、彼らは教師の周りで文法の課題に取り組んだり、定型作文の学習にいそしんだりしていた。子弟の中にはスキタイもいて、私たちの言語を学んでいた。

村山：スキタイは、紀元前7世紀頃から紀元前6世紀頃には エ と習いました。

先生：そのとおりです。ただし、この資料の「スキタイ」は、帝国の北方に住んでいる人を広く指したようです。

田川：この資料にある「フランク人」とはどのような人たちでしょうか。

先生：ローマ教皇の要請に従った西ヨーロッパの諸侯や騎士を中心とした人たちです。アンナ＝コムネナは、人々の共生と対立の風景を描いています。

問 4 前の文章中の空欄 に入れる文として最も適当なものを、次の①～④のうちから一つ選べ。

- ① 南ロシアの草原地帯(ユーラシア大陸西方の草原地帯)で移動と定住を行っていた
- ② 内陸アジアから移動したフン人を恐れてローマ帝国内に進出した
- ③ 北欧のスカンディナヴィア半島, バルト海沿岸に定住していたが, その後, ヨーロッパ大陸に進出した
- ④ ヨーロッパ大陸の先住民であったが, 異民族に追われヨーロッパの北西部に定住した

問 5 下線部⑥がもたらした出来事の名あ・いと, その出来事について述べた文 X・Y との組合せとして正しいものを, 後の①～④のうちから一つ選べ。

出来事の名

- あ イタリア戦争
- い 十字軍

出来事について述べた文

- X フランス王国とスペインのハプスブルク家との間で対立が起こった。
- Y イエルサレムをイスラーム勢力から奪回するために開始された。

- ① あ — X
- ② あ — Y
- ③ い — X
- ④ い — Y

世界史A

第4問 人の移動の歴史について述べた次の文章A・Bを読み、後の問い(問1～5)に答えよ。(配点 16)

A 19世紀後半頃までに、欧米諸国を中心に工業化が進展し、㉑交通網が発達したことで、遠距離を移動する移民が増加した。次の表1・2は、19世紀中頃から20世紀初めにかけての移民数を、送り出し国別と受け入れ国別にまとめたものである。当時の移民に関する統計を読み解くと、時期ごと、地域ごとの政治的、経済的な現象が、送り出し国側と受け入れ国側の双方における移民の増減に大きな影響を与えていたことが分かる。

表1 送り出し国別の移民の送り出し数

(単位：1,000人)

年	1851 -60	1861 -70	1871 -80	1881 -90	1891 -1900	1901 -10
ドイツ	622	634	626	1,342	527	274
イタリア	5	27	168	992	1,580	3,615
インド	975	1,769	2,740	3,006	4,288	3,292
中国	96	140	741	1,643	2,001	2,729

表2 受け入れ国別の移民の受け入れ数

(単位：1,000人)

年	1851 -60	1861 -70	1871 -80	1881 -90	1891 -1900	1901 -10
アメリカ合衆国	2,598	2,315	2,812	5,247	3,688	8,795
オーストラリア	—	116	72	213	416	1,516
ブラジル	122	98	229	531	1,144	689
アルゼンチン	67	116	261	841	648	1,764

(表1・2とも杉原薫「近代世界システムと人間の移動」より作成)

問 1 下線部②に関連して、19 世紀に起こった出来事として誤っているものを、
次の①～④のうちから一つ選べ。 19

- ① シベリア鉄道の敷設が始まった。
- ② スエズ運河が開通した。
- ③ アメリカ合衆国初の大陸横断鉄道が開通した。
- ④ パナマ運河が開通した。

問 2 前の表 1・2 を見ると、移民数の増減傾向とその要因について、次のような
仮説を導き出すことができる。次の仮説中の空欄 ア と イ に入れる
国の名の組合せとして正しいものを、後の①～④のうちから一つ選べ。
20

仮 説

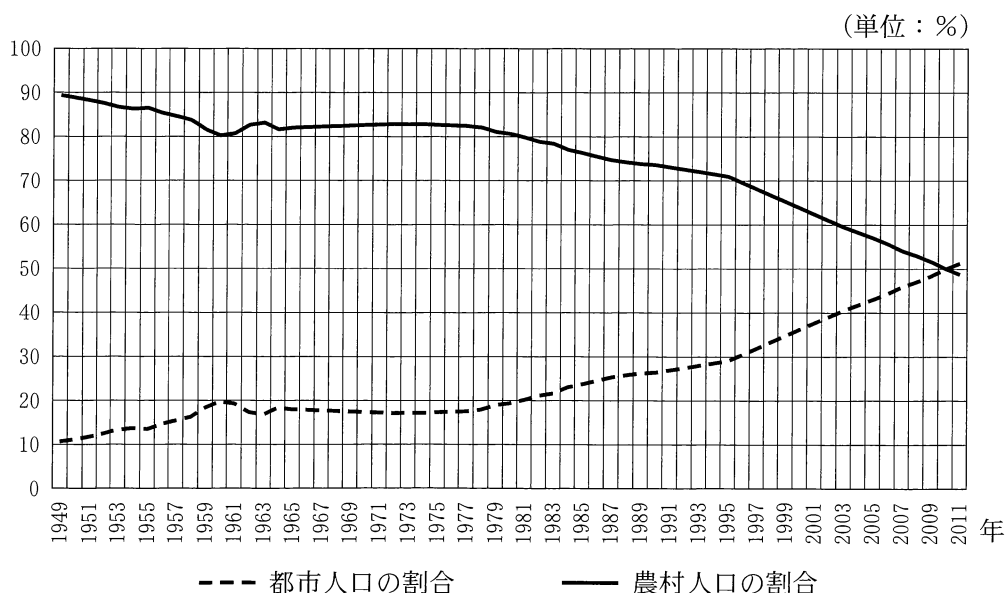
ア からの移民について、送り出し数が、19 世紀後半に一貫して
増え続けているのは、19 世紀中頃に国家統一が達成されたが、依然とし
て経済水準が低かったためだと考えられる。また、イ への移民につ
いて、1861-70 年の受け入れ数が、その前後の時期よりも少ないのは、
1860 年代前半に国内で内戦が起こっていたためだと考えられる。

- ① アーイタリア イーアメリカ合衆国
- ② アーイタリア イーアルゼンチン
- ③ アードイツ イーアメリカ合衆国
- ④ アードイツ イーアルゼンチン

世界史A

B 中国共産党は、1927年の上海クーデタで⑬ある政党の指導者に弾圧されて以降、本拠地を転々と移しながら農村を基盤に勢力を伸張させ、最終的に中華人民共和国を成立に導いた。その頃、グラフに見られるように、中国の人口の約90%が農村に居住していた。その後農村人口の割合は徐々に下がっていったが、**ウ**に初めて80%まで低下してからは、おおむね80%台前半で維持された。ただ、**エ**の後に、四つの現代化や改革・開放政策が開始されるようになると、農村人口の割合が再度低下するようになった。そして、2011年に農村人口の割合はついに50%を下回った。農村から都市への⑭移住者が増えたことも、そのような変化が生じた理由の一つである。

グラフ 中国における都市・農村人口の割合(1949-2011年)



(若林敬子・聶海松編『中国人口問題の年譜と統計』より作成)

問 3 前の文章中の空欄 **ウ** と **エ** に入れる語句の組合せとして正しいものを、次の①～④のうちから一つ選べ。 **21**

- ① ウー 朝鮮戦争の休戦前 エー 文化大革命の終結
- ② ウー 朝鮮戦争の休戦前 エー 香港の中国への返還
- ③ ウー 大躍進政策の開始後 エー 文化大革命の終結
- ④ ウー 大躍進政策の開始後 エー 香港の中国への返還

問 4 中国共産党と同様、下線部⑥の政党もたびたび本拠地を移動させている。そのうち 1930 年代後半に行われた移動の経路と、本拠地を移動させなければならなかった背景との組合せとして正しいものを、次の①～④のうちから一つ選べ。 **22**

- ① 南京から重慶へー中国共産党との争いに敗れたため
- ② 南京から重慶へー日本軍によって圧迫されたため
- ③ 中国大陸から台湾へー中国共産党との争いに敗れたため
- ④ 中国大陸から台湾へー日本軍によって圧迫されたため

問 5 下線部③に関連して、世界史上における人の移住、およびそれに関連する事柄について述べた文として誤っているものを、次の①～④のうちから一つ選べ。 **23**

- ① インダス文明が衰退した後、アーリヤ人がインドに進出した。
- ② 7 世紀前半に、迫害を受けたムハンマドらはバグダードに移住した。
- ③ 産業革命期のマンチェスターでは、都市化が進行し、人口が増加した。
- ④ 第一次世界大戦中に、イギリスは、将来パレスチナにユダヤ人が移住して自らの国家(民族的郷土)を建設することを承認した。


世界史A

第5問 世界史上における民主化の動きについて述べた次の文章A～Cを読み、後の問い(問1～8)に答えよ。(配点 25)

A スペインの **ア** は、ドイツとイタリアの軍事的支援を得て内戦に勝利したが、第二次世界大戦後、^a 世界が東西二大陣営に分かれると、一転してアメリカ合衆国に接近して、独裁者として君臨し続けた。写真の「戦没者の谷」は、体制の栄光を記念するため、内戦時の戦争捕虜や政治犯を主な労働力として建設された。その後、独裁者が亡くなると、彼の遺体はその聖堂中央に安置され、その命日には聖堂前広場で独裁体制を賛美する式典が開催されるようになった。

21世紀になると、ようやく独裁体制の歴史的記憶を問い直す運動が進められ、行方不明となっていた独裁体制下の犠牲者の遺体の発掘と改葬が進められている。**ア** の遺体も、2019年10月、戦没者の谷から掘り起こされ、マドリッド郊外に移された。独裁体制を否定する人々のなかにも、過去の対立を蒸し返すことになる遺体の移転に反対した人が多くいたが、「戦没者の谷が独裁体制を賛美する場になってはならない」という当時の政府の主張を最高裁判所が全面的に支持したため、移転が実現した。

写 真



問 1 前の文章中の空欄 **ア** に入れる人物の名あ・いと、その遺体を移転するに当たっての当時のスペイン政府の公式の態度X・Yとの組合せとして正しいものを、後の①～④のうちから一つ選べ。 **24**

ア に入れる人物の名

- あ フランコ
- い カストロ

当時のスペイン政府の公式の態度

- X 民主体制の安定のためには、全ての独裁体制の痕跡を消して、過去の悲惨な歴史を忘却することが必要である。
- Y 独裁体制を賛美する式典に戦没者の谷を使ってはならない。

- ① あ—X
- ② あ—Y
- ③ い—X
- ④ い—Y

問 2 前の文章にあるように、ドイツとイタリアは、スペイン内戦で相互に協力した。その際にイタリアが行った外交・対外政策について述べた文として最も適当なものを、次の①～④のうちから一つ選べ。 **25**

- ① ドイツ・オーストリアと三国同盟を結んだ。
- ② フィウメを併合した。
- ③ ベルリン＝ローマ枢軸を結成した。
- ④ 教皇領(ローマ教皇領)を併合した。

世界史 A

問 3 下線部②の事態に対して、東西いずれの陣営にも属さない第三勢力(第三世界)の形成に向かう動きが見られた。こうした動きについて述べた文として最も適当なものを、次の①～④のうちから一つ選べ。 26

- ① ワルシャワ条約機構が結成された。
- ② 米英仏のドイツ占領地区で、通貨改革が行われた。
- ③ チャーチルが、「鉄のカーテン」演説を行った。
- ④ アジア＝アフリカ会議(バンドン会議)が開催された。

世界史 A

B 1979年、大韓民国の大統領であった **イ** が暗殺された後、大統領となった チエギユ ハ 崔圭夏は、非常戒厳令を全国に拡大し、「内乱陰謀」を企てたとして **ウ** を逮捕した。これをきっかけに、 **ウ** の地元である光州で大学生による抗議運動が起こると、多くの市民がこれに参加した。軍を掌握していた チヨンドウフアン 全斗煥は、空 ていぶたい 挺部隊を中心とする軍を投入して運動を鎮圧した。次の文は、抗議運動を起こした大学生たちが出した声明である。(引用文には、省略したり、改めたりしたところがある。)

民主市民よ、立ち上がれ！ 各大学に空挺部隊投入！
無慈悲な銃剣で学生、若者、市民を無差別殴打！
市民3名、学生4名以上の死亡確認！
500余名の負傷者続出、全州一円の流血暴力。
ああ、こんなことがあってよいのか？
崔圭夏らの維新残党と維新独裁者の息子全斗煥の奴らは、最後の悪あがきを始めた。民主市民たちよ、今、この民族が死ぬか生きるかだ。
立ち上がれ！ 最後まで闘争しよう。

1980年代後半から、⑥ 韓国における民主化が進み、1998年には **ウ** が大統領となった。光州での抗議運動は、事件当時、「暴徒による騒乱」と規定されたが、現在では「民主化運動」として評価されている。

世界史A

- 問 4 前の文章中の空欄 **イ** と **ウ** に入れる人物の名と、引用した声明で大学生たちが主張した内容について述べた文 **X**・**Y**との組合せとして正しいものを、後の①～④のうちから一つ選べ。 **27**

大学生たちが主張した内容について述べた文

X 市民らの抗議運動を、武力を用いて鎮圧しようとする政府を批判している。

Y 武力を用いて内乱を企てた崔圭夏を批判している。

	イ	ウ	大学生たちが主張した内容について述べた文
①	朴正熙	金大中	X
②	金大中	朴正熙	X
③	朴正熙	金大中	Y
④	金大中	朴正熙	Y

- 問 5 下線部⑥に関連して、世界史上の民主化の動きについて述べた文として最も適切なものを、次の①～④のうちから一つ選べ。 **28**

- ① ポーランドで、ワレサが率いる自主管理労働組合「連帯」によって、民主化運動が進められた。
- ② チェコスロヴァキアで、チャウシェスク政権が崩壊した。
- ③ フィリピンで、スハルトの独裁政権が打倒された。
- ④ 香港で、李登輝によって民主化が進められた。

- C チェコ共和国の首都を訪れた鈴木さんが、現地のガイドとともに、次の写真に写っている広場に立ち寄った。



ガイド：この広場で、東西冷戦の時代に、の春と呼ばれた改革運動が弾圧されました。の春から約20年後、◎ベルリンの壁崩壊と同じ年に、この広場も民主化運動の舞台になりました。

鈴木：東西冷戦の舞台だったというのが実感できません。

ガイド：◎1980年代以降、世界各国で新たな改革政策が推進されていました。民主化後に、かつての東側の国々にも市場経済が波及しました。その一方で、冷戦終結後の世界では、もありました。

鈴木：一つの国で起こった変革には、世界の様々な要因が絡み合っているということですね。

世界史A

問 6 次の年表に示した a～d の時期のうち、下線部㉓が起こった時期として正しいものを、後の①～④のうちから一つ選べ。 29

a
1953年 ソ連指導者スターリンの死去
b
1980年 イラン＝イラク戦争の勃発
c
2004年 ヨーロッパ連合(EU)の加盟国が25か国に拡大
d

- ① a
- ② b
- ③ c
- ④ d

問 7 下線部㉓で述べられている改革政策とそれを行った指導者の名との組合せとして正しいものを、次の①～④のうちから一つ選べ。 30

- ① ペレストロイカーゴルバチョフ
- ② ペレストロイカー鄧小平
- ③ 新経済政策(ネップ)ーゴルバチョフ
- ④ 新経済政策(ネップ)ー鄧小平

問 8 前の文章中の空欄 **エ** に入れる語あ・いと、空欄 **オ** に入れる文 X・Y との組合せとして正しいものを、後の①～④のうちから一つ選べ。 **31**

エ に入れる語

あ プラハ

い アラブ

オ に入れる文

X ティトー政権下のユーゴスラヴィアで、非同盟諸国首脳会議が開催された

Y ユーゴスラヴィアの民族紛争に伴い、ボスニア(ボスニア・ヘルツェゴヴィナ)で内戦が勃発した

① あ－X

② あ－Y

③ い－X

④ い－Y