

世界史 A

(解答番号 ~)

第1問 戦争や軍隊について述べた次の文章A～Cを読み、下の問い(問1～9)に答えよ。(配点 28)

A ①1920年代末までに、中国では国民政府が国内全土をひとまず支配下に収めた。国内の統一に成功した政府の次なる課題は、大きく膨れあがった軍隊の縮小だった。当時、国民政府の率いる国民革命軍は、②内戦を通じて彼らに合流した各地の実力者が擁する軍事勢力を数多く抱えており、政府はこの膨大な兵力を支えることのできる財源を持ち合わせてはいなかったのである。国民革命軍を再編しようとする試みに、各地の実力者は抵抗を示したため、政府は③実力行使を通じてこれらの動きを鎮圧した。こうして、国民政府は国内における統治能力を高めることにも成功したのである。

問1 下線部①の時期に中国で起こった出来事について述べた文として正しいものを、次の①～④のうちから一つ選べ。

- ① 紅巾の乱が起こった。
- ② 洋務運動が進められた。
- ③ 五・三〇事件が起こった。
- ④ 大躍進政策(大躍進運動)が始められた。

世界史 A

問 2 下線部②に関連して、戦争や抵抗運動について述べた文として正しいものを、次の①～④のうちから一つ選べ。

- ① 日本軍が、ミッドウェー海戦で勝利した。
- ② イギリスが、アヘン戦争に勝利した。
- ③ リビアで、インティファダが起こった。
- ④ 台湾で、義兵闘争が起こった。

問 3 下線部③に関連して、次の年表に示した a～d の時期のうち、アメリカ合衆国で同時多発テロ(同時多発テロ事件, 9.11 事件)が起きた時期として正しいものを、下の①～④のうちから一つ選べ。

<input type="text" value="a"/>
1995 年 アメリカ合衆国・ベトナム間の国交が正常化した
<input type="text" value="b"/>
2003 年 イラク戦争が起こった
<input type="text" value="c"/>
2011 年 オサマ＝ビンラディンが殺害された
<input type="text" value="d"/>

- ① a ② b ③ c ④ d

世界史 A

B ④ 帝国主義の時代に、植民地保有国の多くは植民地軍を擁していた。その植民地軍は、本国兵と、現地住民兵や他地域出身兵から構成されていた。19世紀末から20世紀初頭にかけて、植民地軍における本国兵以外の比率は、⑤ オランダ植民地軍では約50%、フランス植民地軍では約60%、イギリス植民地軍では約75%にのぼった。現地の言語や習俗に通じた現地住民兵の中には、植民地行政に登用される者もいた。さらに、⑥ 植民地支配に対する様々な抵抗に際し、しばしばそれらを鎮圧するために利用されたが、自ら反乱を起こすこともあった。

問 4 下線部④に関連して、帝国主義時代の国際関係について述べた次の文 a と b の正誤の組合せとして正しいものを、下の①～④のうちから一つ選べ。

4

- a 19世紀後半、ドイツは、イタリア、スイスと三国同盟を結んだ。
- b 英露協商で、両国はイランにおける勢力範囲を定めた。

- ① a — 正 b — 正
- ② a — 正 b — 誤
- ③ a — 誤 b — 正
- ④ a — 誤 b — 誤

問 5 下線部⑤の歴史について述べた文として正しいものを、次の①～④のうちから一つ選べ。 5

- ① スペインに対する独立戦争が展開された。
- ② アラスカに進出した。
- ③ ビスマルク諸島を領有した。
- ④ 第二次世界大戦中に、ソ連によって併合された。

問 6 下線部⑥に関連して、植民地支配や外国の進出に対する戦争・抵抗について述べた文として正しいものを、次の①～④のうちから一つ選べ。

6

- ① スーダンで、マフディーの反乱(マフディー派の抵抗運動)が起こった。
- ② 香港で、義和団事件が起こった。
- ③ ディエンビエンフーで、イギリス軍が敗北した。
- ④ インドネシアで、シパーヒーの反乱が起こった。

世界史A

C プロイセンの軍人カール＝フォン＝クラウゼヴィッツ(1780～1831年)は、若い頃から実戦経験を積み、プロイセンが屈辱的な⑦講和条約を結んだ戦争で捕虜になったこともある。彼は、宮廷の⑧女官を務めた上級貴族出身のマリーとの結婚で社会的立場を固め、プロイセンの軍制改革を主導して名声を獲得したものの、志半ばで病没した。「戦争は、政治的手段とは異なる手段をもって継続される政治である」という言葉で有名なクラウゼヴィッツの『戦争論』は、彼の死後に妻の尽力によって出版され、その後の⑨ドイツを含むヨーロッパの軍人たちの戦争観に少なからぬ影響を与えた。

問 7 下線部⑦に関連して、和議や条約について述べた文として正しいものを、次の①～④のうちから一つ選べ。 7

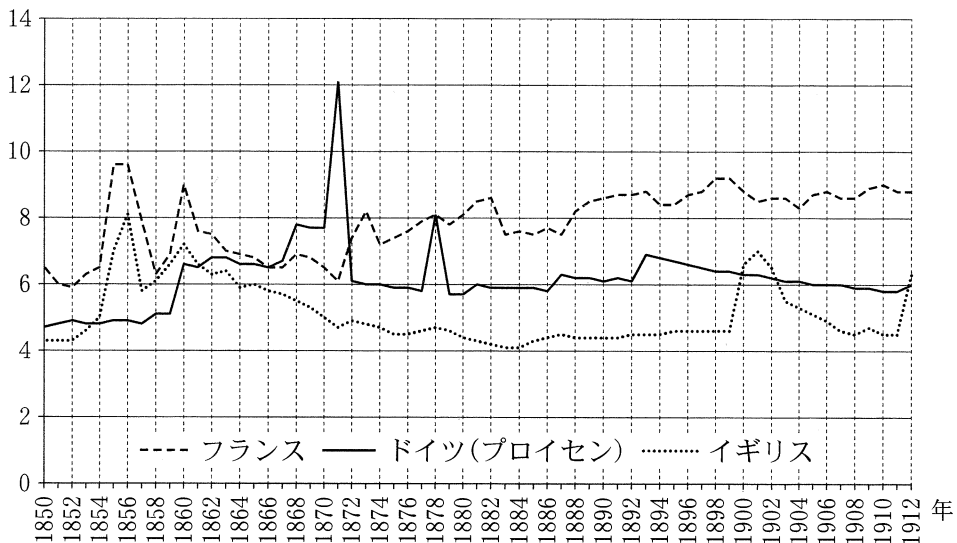
- ① アウクスブルクの和議(アウクスブルクの宗教和議)により、カルヴァン派が容認された。
- ② アイゲン条約により、清はロシアから領土を獲得した。
- ③ サン＝ステファノ条約により、オスマン帝国はバルカン半島に勢力をのびした。
- ④ 下関条約により、日本は多額の賠償金を獲得した。

問 8 下線部⑧に関連して、世界史上の女性について述べた文として正しいものを、次の①～④のうちから一つ選べ。 8

- ① マリ＝アントワネットは、ルイ 16 世の王妃になった。
- ② ジャンヌ＝ダルクは、バラ戦争(ばら戦争)で活躍した。
- ③ シャネル(ココ＝シャネル)は、18 世紀に女性服をデザインした。
- ④ アキノ(コラソン＝アキノ)は、ラオスで政権を担った。

問 9 下線部⑨に関連して、次のグラフは、1850年から1912年までのフランス、イギリス、ドイツ(プロイセン)の3か国における、20歳から44歳までの男性人口に占める軍人の割合を示したものである。このグラフから読み取れる内容について述べた下の文 **a** と **b** の正誤の組合せとして正しいものを、下の①～④のうちから一つ選べ。 9

単位：%



(ペーター・フローラ編、竹岡敬温監訳『ヨーロッパ歴史統計 国家・経済・社会 1815-1975』(上)より作成)

a 南アフリカ戦争中、イギリスの軍人の割合は、ドイツ(プロイセン)の軍人の割合を超えた。


b プロイセン=フランス(普仏)戦争中、ドイツ(プロイセン)とフランスの軍人の割合は、ともに8%に達した。

- ① a — 正 b — 正
- ② a — 正 b — 誤
- ③ a — 誤 b — 正
- ④ a — 誤 b — 誤

世界史A

第2問 人・モノ・文化の交流について述べた次の文章A～Cを読み、下の問い(問1～10)に答えよ。(配点 30)

A 中国福建省惠安县に、崇武古城と呼ばれる2.5キロメートルにも及ぶ強固な城壁がある(下図参照)。これは、①明代に②倭寇を阻止するため東南沿海に築かれた城壁の一部が今に残っているものである。ここでいう「倭」とは、「日本人」という意味である。しかし『明史』に「大抵真倭は十の三(本当の日本人は3割程度)」と記されている通り、その実態は中国人を主体とし、日本人などを含む武装商船団であった。明朝は彼らを密貿易集団として取り締まっていたが、この倭寇をはじめ、ヨーロッパ商人なども関わって展開された東シナ海の交易活動は、③中国の諸都市と世界とをつなぐ役割を担っていたのである。



崇武古城

問1 下線部①について述べた文として正しいものを、次の①～④のうちから一つ選べ。

10

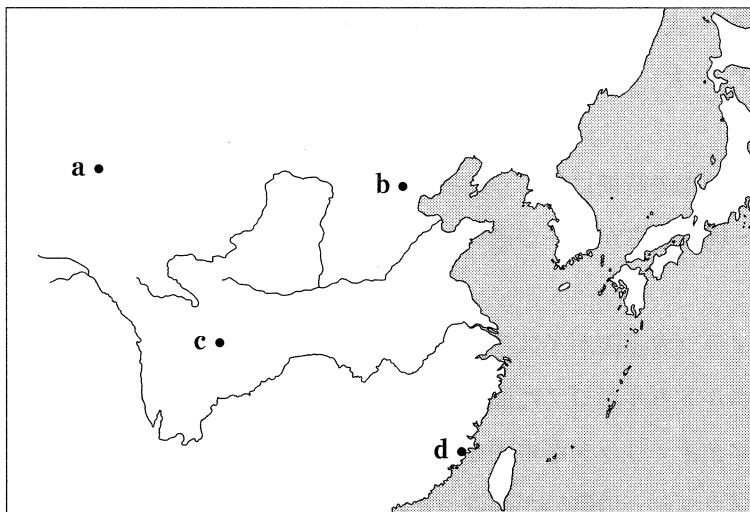
- ① 一条鞭法を実施した。
- ② 八旗制を実施した。
- ③ 均田制を実施した。
- ④ 節度使を置いた。

問 2 下線部②に関連して、中国の対外関係や交易について述べた次の文 **a** と **b** の正誤の組合せとして正しいものを、下の①～④のうちから一つ選べ。 11

- a 元代に、北方の匈奴を破った。
- b 秦代に、石見銀山で産出された日本銀を輸入した。

- ① a — 正 b — 正
- ② a — 正 b — 誤
- ③ a — 誤 b — 正
- ④ a — 誤 b — 誤

問 3 下線部③に関連して、次の地図中の **a** ～ **d** のうち、古来東西交易の要衝であった敦煌の位置を示したものとして正しいものを、下の①～④のうちから一つ選べ。 12



- ① a ② b ③ c ④ d

世界史A

B 現在、東南アジアで広く信仰されている **ア** 仏教は、インド亜大陸の東南に位置するスリランカ(セイロン)から伝えられた。しかし、スリランカの仏教は、インド南部のヒンドゥー諸王国の進出や、西欧諸国による支配によって、存続の危機を何度も経験してきた。スリランカは、このような危機を、東南アジアの仏教国との交流によって、乗り越えてきた。例えば、④18世紀半ばには、アユタヤ朝が治める **イ** からの僧侶団を迎え入れ、衰退した仏教教団を復興した。現在のスリランカ仏教の最大宗派である「シャム派」は、この伝統を受け継いでいる。南アジアと東南アジアの間の仏教の交流は、その後の欧米による⑤東南アジアの植民地支配の時代以後も続いた。

問 4 文章中の空欄 **ア** と **イ** に入れる語の組合せとして正しいものを、次の①～④のうちから一つ選べ。 **13**

- ① アー上座(上座部) イータ イ
- ② アー上座(上座部) イーベトナム
- ③ アー大乗 イータ イ
- ④ アー大乗 イーベトナム

問 5 下線部④の時期に起こった出来事について述べた文として正しいものを、次の①～④のうちから一つ選べ。 **14**

- ① マラッカ王国がイスラームを受容した。
- ② ポルトガルがゴアに進出した。
- ③ マテオ＝リッチが中国を訪れた。
- ④ プラッシーの戦いが起こった。

問 6 下線部⑤について述べた次の文 a ~ c が、年代の古いものから順に正しく配列されているものを、下の①~⑥のうちから一つ選べ。 15

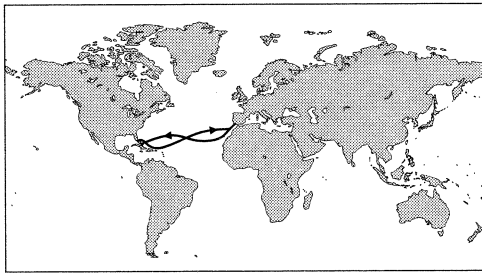
- a ビルマがイギリスから独立した。
- b 日本軍がマレー半島を占領した。
- c アメリカ合衆国が、スペインからフィリピンを獲得した。

- ① a → b → c
- ② a → c → b
- ③ b → a → c
- ④ b → c → a
- ⑤ c → a → b
- ⑥ c → b → a

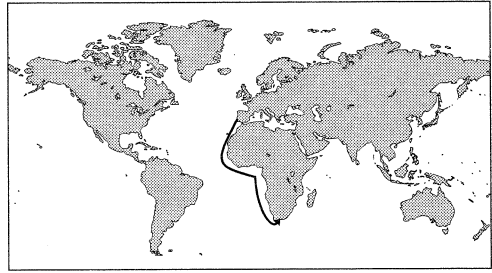
世界史A

C モンゴル帝国の勃興期，その支配領域の拡大に伴ってユーラシア大陸の東西交通網が整備され，⑥地域の枠を超えて様々な使節や商人が往来するようになった。⑦フランス王によってモンゴルに派遣されたドミニコ会修道士アンドレもその一人である。⑧十字軍遠征中のフランス王の下へ，モンゴル軍司令官イルチガタイから援助を申し出る使節が来訪した。アンドレはその答礼使に選ばれて，モンゴルのハンの下に派遣されたのである。結局，この⑨外交使節の交渉は失敗したが，アンドレの報告は，ヨーロッパにモンゴルの国土や起源，しきたり，歴史について，様々な情報をもたらすことになった。

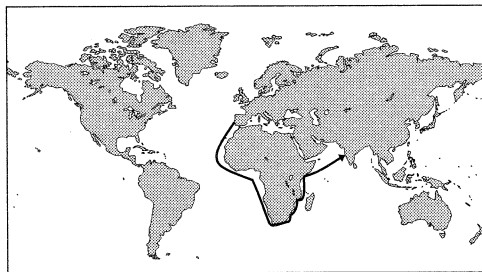
問 7 下線部⑥に関連して，大航海時代に活躍したマゼラン一行の航路を示した地図として最も適当なものを，次の①～④のうちから一つ選べ。 16



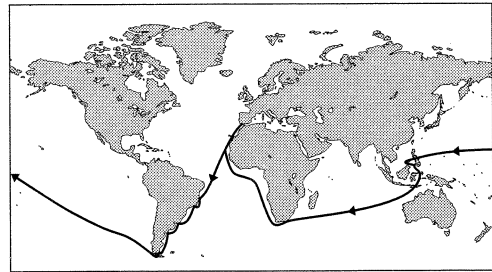
①



②



③



④

世界史 A

問 8 下線部⑦に関連して、君主について述べた文として正しいものを、次の①～④のうちから一つ選べ。 17

- ① ヌルハチは、南宋を建国した。
- ② プロイセンのフリードリヒ 2 世は、啓蒙専制君主と呼ばれる。
- ③ アレクサンドロス大王は、プワイフ朝を滅ぼした。
- ④ ハムムラビ王は、ヒッタイトを治めた。

問 9 下線部⑧に関連して、戦争や軍事遠征について述べた文として正しいものを、次の①～④のうちから一つ選べ。 18

- ① 第 2 次バルカン戦争で、ブルガリアが敗北した。
- ② 隋は、日本に遠征軍を送った。
- ③ カルタゴが、ポエニ戦争に勝利した。
- ④ ドイツ軍が、ノルマンディーに上陸してパリを解放した。


問10 下線部⑨について述べた文として正しいものを、次の①～④のうちから一つ選べ。 19

- ① ヤルタ会談で、ソ連の対独参戦が決定した。
- ② ソ連と中国は、中距離核戦力(INF)全廃条約を締結した。
- ③ イギリスは、フサイン=マクマホン書簡(フセイン=マクマホン書簡、フサイン=マクマホン協定、フセイン=マクマホンの往復書簡)で、アラブ人に独立を約束した。
- ④ ジャクソン大統領は、ラテンアメリカ諸国に善隣外交を展開した。

世界史A

第3問 食べ物について述べた次の文章A・Bを読み、下の問い(問1～7)に答えよ。(配点 21)

A キリスト教では、さまざまな①飲食物に象徴的な意味が与えられてきた。なかでもパンとワインは、②イエスが捕らえられる前に、弟子たちと共にした食事に由来する特別な意味を持っている。ここでイエスは、パンを自らの身体として、ワインを自らの血として弟子たちに分け与えたとされる。イタリアの③都市ミラノのサンタ=マリア=デレ=グラツィエ聖堂の修道院には、イタリア=ルネサンスの巨匠 **ア** がこの場面を描いた壁画「最後の晩餐」(下図参照)が残されている。この絵は、技法上の問題もあって激しく傷んでいたが、近年完成した本格的な修復により、パンとワイン以外にも、魚や果物などが描かれているのが確認できるようになった。



「最後の晩餐」

問1 文章中の空欄 **ア** に入れる語として正しいものを、次の①～④のうちから一つ選べ。 **20**

- ① レオナルド=ダ=ヴィンチ
- ② ルノワール
- ③ ゴッホ
- ④ ミレー

問 2 下線部①について述べた文として最も適当なものを、次の①～④のうちから一つ選べ。 21

- ① 古代の地中海沿岸で、オリーブが栽培された。
- ② ヨーロッパ原産のクローヴ(クローブ)が、モルッカ諸島にもたらされた。
- ③ 古代の黄河流域で、ナツメヤシが栽培された。
- ④ 18世紀のイギリスで、茶がマダガスカルから輸入された。

問 3 下線部②に関連して、宗教の迫害や保護について述べた文として正しいものを、次の①～④のうちから一つ選べ。 22

- ① 宣教師殺害(迫害)を口実として、フランスはニュージーランドを保護国とした。
- ② サンバルテルミ(サン＝バルテルミ)の虐殺で、多数のムスリムが犠牲となった。
- ③ カニシカ王によって、仏教が弾圧された。
- ④ サファヴィー朝で、シーア派が国教とされた。

問 4 下線部③に関連して、都市の整備について述べた次の文 a と b の正誤の組合せとして正しいものを、下の①～④のうちから一つ選べ。 23

- a ナポレオン 3 世の下、パリの大改造が行われた。
- b エカチェリーナ 2 世の下、サンクト＝ペテルブルク(ペテルブルク)が建設された。

- ① a — 正 b — 正
- ② a — 正 b — 誤
- ③ a — 誤 b — 正
- ④ a — 誤 b — 誤

世界史A

- B ④食品の着色が一般化したのは、近代になって都市化が進行し、食料を購入する人々が増えてからである。肉を新鮮に見せる赤、チーズやピクルスを魅力的に見せる黄色と緑などが、19世紀のヨーロッパやアメリカで広く使われた。合成の着色料は、天然の着色料よりも色あせが少なかったため、食品業者はヒ素や銅などを原料とする合成着色料を、安全性をほとんど考慮せず使用した。そのため、着色料が原因と考えられる中毒が相次ぐようになった。有害な着色料の⑤規制は、19世紀末にはドイツで、20世紀初頭にはアメリカで始まり、やがて⑥国際的な取り組みも行われるようになった。

問 5 下線部④について述べた次の文章中の空欄 **ア** と **イ** に入れる語の組合せとして正しいものを、下の①～④のうちから一つ選べ。 **24**

16世紀以降、トウモロコシなど **ア** 大陸原産の農作物がヨーロッパやアジアに伝えられ、人口増加を支えた。しかし、19世紀半ばのアイルランドのように、**イ** の不作による大飢饉^{ききん}が起こることもあった。

- ① アーアメリカ イージャガイモ
- ② アーアメリカ イーサツマイモ
- ③ アーアフリカ イージャガイモ
- ④ アーアフリカ イーサツマイモ

問 6 下線部⑤に関連して、規制や禁止について述べた文として誤っているものを、次の①～④のうちから一つ選べ。 **25**

- ① イスラームでは、偶像崇拝が禁じられている。
- ② キューバで、禁酒法が施行された。
- ③ ナポレオンが、大陸封鎖令を発した。
- ④ アメリカ合衆国で、移民法が制定された。

問 7 下線部⑥に関連して、20 世紀前半の国際協調の試みについて述べた文として正しいものを、次の①～④のうちから一つ選べ。

26

- ① 国際赤十字が設立された。
- ② 京都議定書が採択された。
- ③ ロカルノ条約が結ばれた。
- ④ 核拡散防止条約(核不拡散条約, NPT)が調印された。

世界史 A

第4問 国家と指導者について述べた次の文章A・Bを読み、下の問い(問1～7)に答えよ。(配点 21)

A アフメトジャン=カシミ(下図参照)は、現在の中国新疆ウイグル自治区北部で1944年に樹立が宣言された「東トルキスタン共和国」の指導者であった。この「共和国」は新疆のトルコ系住民が西方からの刺激を受けて、民族意識を高める過程で①ソ連の後援下で樹立された。しかし、領土主権を主張する中華民国に配慮したソ連の意向によって、共和国は中華民国の支配下でソ連の自治共和国をモデルとする②「高度な自治」を追求せざるをえなくなった。その後、③中華人民共和国成立前夜、会議出席のため北京に向かったアフメトジャンらは、ソ連領上空で飛行機事故によって死亡し、新疆の行く末を見ることはかなわなかった。



アフメトジャン=カシミ

問 1 下線部①に関連して、ロシア革命とソ連の成立について述べた文として誤っているものを、次の①～④のうちから一つ選べ。 27

- ① メンシェヴィキが、ソヴィエト政権を樹立した。
- ② ロシアを含む4共和国によって、ソヴィエト社会主義共和国連邦が成立した。
- ③ 対ソ干渉戦争が引き起こされた。
- ④ ソヴィエト政権は、戦時共産主義を実施した。

問 2 下線部②に関連して、次の年表に示した a～d の時期のうち、オーストリアがハンガリーに自治を認め、オーストリア＝ハンガリー帝国が成立した時期として正しいものを、下の①～④のうちから一つ選べ。 28

a	1896年 ハンガリーで建国千年祭が行われた
b	1920年 トリアノン条約が調印された
c	1955年 オーストリアが永世中立を宣言した
d	

- ① a ② b ③ c ④ d

問 3 下線部③の時期に起こった出来事について述べた文として正しいものを、次の①～④のうちから一つ選べ。 29

- ① 文字の獄が起こった。
- ② 戊戌の政変が起こった。
- ③ 中ソ対立が起こった。
- ④ 辛亥革命が起こった。

世界史A

B 「ローマとは、われわれの出発点であり、われわれの原点である。(中略)われわれが夢見るのは、このローマ的なイタリアである。賢くて強く、規律があつて帝国をもつイタリアである。」これは、社会や経済の混乱する両大戦間期のイタリアで指導者となった④ムッソリーニの言葉である。⑤古代ローマへのあこがれを抱いていた彼は、新たなる地中海帝国の建設を目指して、⑥支配領域の拡張を図った。しかし、⑦アフリカ大陸で強行した侵略戦争は、国際的な非難を招くことになった。

問 4 下線部④の人物が活動した時代のイタリアについて述べた文として最も適切なものを、次の①～④のうちから一つ選べ。 30

- ① ファシスト党が政権を獲得した。
- ② 国会議事堂放火事件が起こった。
- ③ フランコ将軍が反乱を起こした。
- ④ 第1次五か年計画が実施された。

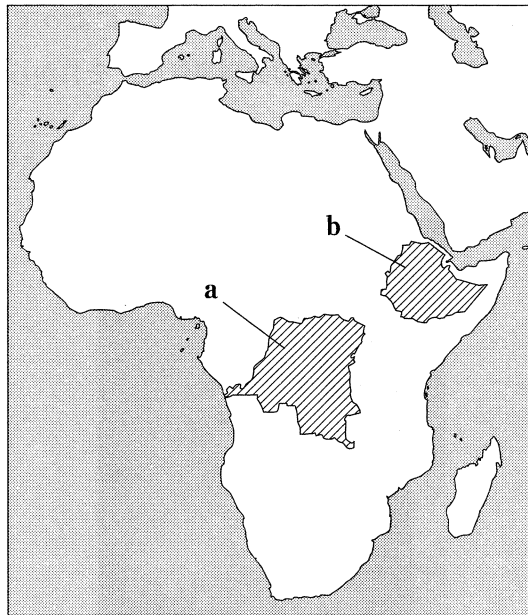
問 5 下線部⑤について述べた文として最も適切なものを、次の①～④のうちから一つ選べ。 31

- ① ティグリス川流域で成立した。
- ② アリストテレスが活躍した。
- ③ コロッセウムが建設された。
- ④ ベルセポリスを都とした。

問 6 下線部⑥に関連して、国家による勢力拡大について述べた文として正しいものを、次の①～④のうちから一つ選べ。 32

- ① ロシアとカージャール朝との間で、トルコマンチャーイ条約が結ばれた。
- ② 日本とアメリカ合衆国との間で、江華島事件が起こった。
- ③ シリアは、第一次世界大戦後、ドイツの委任統治領とされた。
- ④ 中国は、冷戦期に、アフガニスタンに侵攻した。

問 7 下線部⑦に関連して、1935年にイタリアが侵略し、翌年併合した国の名と、その位置を示す次の地図中の **a** または **b** との組合せとして正しいものを、下の①～④のうちから一つ選べ。 33



- ① エチオピア — a
- ② エチオピア — b
- ③ コンゴ — a
- ④ コンゴ — b